

## Stadtrallye Neuenbürg Lösungen

Liebe Rallyeteilnehmer,

folgend finden Sie eine Rallye durch unsere malerische Stadt Neuenbürg und den Ortsteilen Dennach, Arnbach und Waldrennach. Die Rallye kann an einem Tag oder in verschiedenen Phasen absolviert werden. Wie die Rallye durchlaufen wird ist Ihnen selbst überlassen- ob zu Fuß, mit dem Rad oder mit dem Auto.

Was Sie mitnehmen sollten: Stift, Rallyebogen, einen Stadtplan und ganz viel Spaß☺

---

---

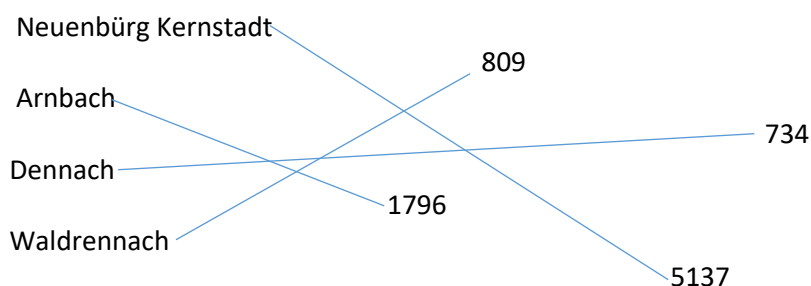
**Zuerst ein paar bequeme Fragen von zu Hause aus über die Stadt Neuenbürg (die Stadthomepage kann helfen ☺):**

1. Wie lange gibt es die Stadt Neuenbürg schon (2025)?

750 Jahre

2. Wie viele Einwohner hat Neuenbürg insgesamt und wie setzt sich diese Zahl zusammen. (Bitte verbinden)

Insgesamt: 8476 Einwohner



3. Welche drei großen Sehenswürdigkeiten/ Ausflugsziele befinden sich in Neuenbürg?

Freibad, Schloss und Bergwerk

### **Stadtkern Neuenbürg „Städle“**

Beginnen Sie beim Rathaus. Stellen Sie sich so vor das Rathaus, sodass Sie folgende Tür anschauen.



4. Wie viele Fenster hat das Rathaus von dieser Seite aus?

26

Lesen Sie nun die folgende Tafel um die Lücken zu füllen.



5. Wann war der Stadtbrand in Neuenbürg?

1783

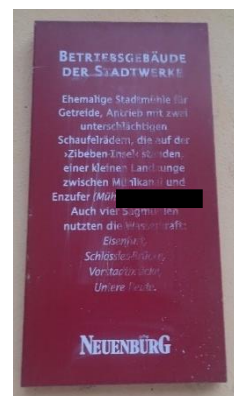
6. Wann wurde Neuenbürg erstmals als Stadt erwähnt?

1274

7. Wo befindet sich das Weinbrennerhaus und das Betriebsgebäude der Stadtwerke in der Mühlstraße?

Weinbrennerhaus: Mühlstraße 32

Betriebsgebäude der Stadtwerke: Mühlstraße 35



Begeben Sie sich nun zur Schlossbergschule.




8. In welchem Jahr wurde die Schlossbergschule erbaut?

1884

9. Wo befindet sich die Zahl 1912 auf dem Schulgebäude?

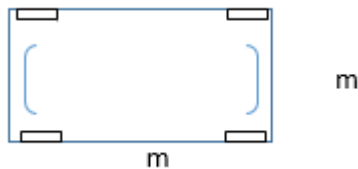
Über der hinteren Eingangstür



Begeben Sie sich nun in den 2024 sanierten Stadtgarten.

10. Wie viele Meter misst der Bolzplatz in der Länge und Breite?

25x44m



Begeben Sie sich nun über die Poststraße und Holzbrücke zum Enzring.

Dort befindet sich die Saint-Maxime-Promenade welche zur 20-jährigen Städtepartnerschaft errichtet wurde.

11. Wann wurde diese eingeweiht? 4. Mai 2013



12. **Bonusfrage:** Wie lange besteht die Partnerschaft zwischen Sainte-Maxime und Neuenbürg im Jubiläumsjahr 2025? 32/33 Jahre

Begeben Sie sich nun zum Schloss Neuenbürg.

13. Wie hieß der **Brunnen** im Schlosshof ursprünglich? Ziehbrunnen

14. Wie viele Treppenstufen hat der Turm im Schlossgarten? 14



15. Schreiben Sie den Ereignissen/ Bauabschnitten die richtige Jahreszahl zu!

Bau der „neuen bürg“ auf dem westlichen Berg-  
rücken. Anlage der „hinteren Burg“ auf der östlichen  
Seite, Bau einer Burgkapelle am Burgberg.

12./14. Jhd.

Nachdem Herzog Ulrich nicht nach Neuenbürg kam,  
wird das neu gegründete Staatliche Forstamt  
Neuenbürg hier untergebracht.

1726

Abschluss der Sanierungsarbeiten. Neueröffnung  
des Museums (Zweigmuseum des Badischen  
Landesmuseums Karlsruhe), eines Restaurants und  
verschiedenen Veranstaltungsräumen.

2001

Begeben Sie sich zum Freibad Neuenbürg.

Suchen Sie das Wandgemälde mit folgendem Ausschnitt.



16. Wie viele Sonnenstrahlen befinden sich auf dem Gemälde? 14

17. Welche Farbe hat der Schriftzug „Freibad Neuenbürg“? rot/braun

## Waldrennach

18. Welche geometrische Form hat der Pavillon vor dem Schulhaus? Achteck

19. Wann wurde das  erbaut? 1910

20. Füllen Sie die folgenden Lücken aus.



Begeben Sie sich zum Bergwerk.

21. Wann wurde das Holzblockhaus erbaut? 1987

## Dennach

22. Wie viele Milchglasfenster befinden sich auf dem Dach der Schwabentorhalle (von allen Seiten)?  
70





23. In welchem Jahr wurde die Lore durch den  
Ortschaftsrat Dennach aufgestellt?

2014

24. Wann wurde das alte Schulhaus und Rathaus erbaut? 1923

25. Welches Tier sitzt auf der Kirchturmspitze der evangelischen Kirche? Hahn

Begeben Sie sich nun zur



26. Wie weit sind die Entfernungen von der Enzkreisspitze zum ...

... Katzenbuckel 80 km

... Sultzerkopf 57 km

... Turmberg 20 km

... Postturm 17 km

### **Arnbach**

27. Wie viele schwarze Striche befinden sich vor dem THW? 13



28. Wie viele rote Felder hat die „Schlange“ auf dem Schulhof der Grundschule in Arnbach? 20



Suchen Sie die Tür an der Grundschule mit folgendem Knauf!



29. Wie viele einzelne Fenster hat diese Tür?

30

30. Wie breit ist die Einfahrt zur Lutherkirche?



## Wilhelmshöhe/ Buchberg

Begeben Sie sich zur Schwedenschanze auf der Wilhelmshöhe.



31. Wie hoch war der Turm? 12 Meter

32. Zu welcher Verteidigungslinie gehörte die Schwedenschanze?  
Mittlerer Schwarzwald

Begeben Sie sich nun an die Stadthalle.

33. Wie viele Fahnenmasten stehen links neben dem Eingang? 3

Begeben Sie sich nun zum Sainte- Maxime Kreisel auf dem Buchberg.



34. Wie viele Kilometer Entfernung liegen zwischen dem Kreisverkehr und unserer Partnerstadt Sainte- Maxime? 1040 km

35. Wie viele Löcher hat das Gemeindehaus Buchberg in dem roten Dach? 7



Begeben Sie sich nun zum Pausenhof des Gymnasiums.

36. Welches Thema hatten die Abiturienten 2022? Astronauten

37. Welches Fahrzeug malten die Abiturienten 1990? Auto

38. Wie viele Abiturienten fingen 2024 mit dem Anfangsbuchstaben „A“ an? 6