

Stadtrallye Neuenbürg

Liebe Rallyeteilnehmer,

folgend finden Sie eine Rallye durch unsere malerische Stadt Neuenbürg und den Ortsteilen Dennach, Arnbach und Waldrennach. Die Rallye kann an einem Tag oder in verschiedenen Phasen absolviert werden. Wie die Rallye durchlaufen wird ist Ihnen selbst überlassen- ob zu Fuß, mit dem Rad oder mit dem Auto.

Was Sie mitnehmen sollten: Stift, Rallyebogen, einen Stadtplan und ganz viel Spaß☺

Zuerst ein paar bequeme Fragen von zu Hause aus über die Stadt Neuenbürg (die Stadthomepage kann helfen ☺):

1. Wie lange gibt es die Stadt Neuenbürg schon?
-

2. Wie viele Einwohner hat Neuenbürg insgesamt und wie setzt sich diese Zahl zusammen (Stand: November 2024). Bitte verbinden!

Insgesamt:

| | | |
|---------------------|------|------|
| Neuenbürg Kernstadt | 809 | |
| Arnbach | | 734 |
| Dennach | 1796 | |
| Waldrennach | | 5137 |

3. Welche drei großen Sehenswürdigkeiten/ Ausflugsziele befinden sich in Neuenbürg?
-

Stadtkern Neuenbürg „Städle“

Beginnen Sie beim Rathaus. Stellen Sie sich so vor das Rathaus, dass Sie folgende Tür anschauen.



4. Wie viele Fenster hat das Rathaus von dieser Seite aus (Ohne Dachfenster)?

Lesen Sie nun die folgende Tafel um die Lücken zu füllen.



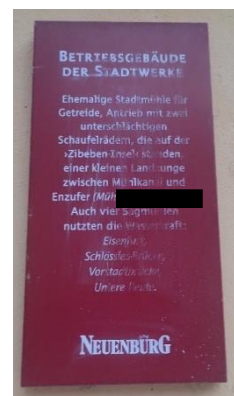
5. Wann war der Stadtbrand in Neuenbürg?

6. Wann wurde Neuenbürg erstmals als Stadt erwähnt?

7. Wo befindet sich das Weinbrennerhaus und das Betriebsgebäude der Stadtwerke in der Mühlstraße?

Weinbrennerhaus: Mühlstraße _____

Betriebsgebäude der Stadtwerke: Mühlstraße _____




Begeben Sie sich nun zur Schlossbergschule.



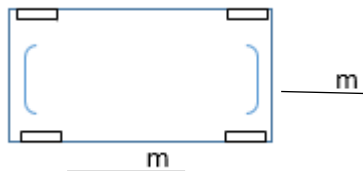
8. In welchem Jahr wurde die Schlossbergschule erbaut?

9. Wo befindet sich die Zahl 1912 auf dem Schulgebäude?



Begeben Sie sich nun in den 2024 sanierten Stadtgarten.

10. Wie viele Meter misst der Bolzplatz in der Länge und Breite?



Begeben Sie sich nun über die Poststraße und Holzbrücke zum Enzring.

Dort befindet sich die Saint-Maxime-Promenade welche zur 20-jährigen Städtepartnerschaft errichtet wurde.

11. Wann wurde diese eingeweiht? _____



12. **Bonusfrage:** Wie lange besteht die Partnerschaft zwischen Sainte-Maxime und Neuenbürg im Jubiläumsjahr 2025? _____

Begeben Sie sich nun zum Schloss Neuenbürg.

13. Wie hieß der **Brunnen** im Schlosshof ursprünglich? _____

14. Wie viele Treppenstufen hat der Turm im Schlossgarten? _____



15. Ordnen Sie den Ereignissen/ Bauabschnitten die richtige Jahreszahl zu!

Bau der „newen bürg“ auf dem westlichen Berg-
rücken. Anlage der „hinteren Burg“ auf der östlichen
Seite, Bau einer Burgkapelle am Burgberg.

Nachdem Herzog Ulrich nicht nach Neuenbürg kam,
wird das neu gegründete Staatliche Forstamt
Neuenbürg hier untergebracht.

Abschluss der Sanierungsarbeiten. Neueröffnung
des Museums (Zweigmuseum des Badischen
Landesmuseums Karlsruhe), eines Restaurants und
verschiedenen Veranstaltungsräumen.

Begeben Sie sich zum Freibad Neuenbürg.

Suchen Sie das Wandgemälde mit folgendem Ausschnitt.



16. Wie viele Sonnenstrahlen befinden sich auf dem Gemälde? _____

17. Welche Farbe hat der Schriftzug „Freibad Neuenbürg“? _____

Waldrennach

18. Welche geometrische Form hat der Pavillon vor dem Schulhaus? _____

19. Wann wurde das  erbaut? _____

20. Begeben Sie sich zum Wasserturm und füllen die folgenden Lücken aus.



Begeben Sie sich zum Bergwerk.

21. Wann wurde das Holzblockhaus erbaut? _____

Dennach

22. Wie viele Milchglasfenster befinden sich auf dem Dach der Schwabentorhalle (von allen Seiten)?





23. In welchem Jahr wurde die Lore am Ortseingang durch den Ortschaftsrat Dennach aufgestellt?

24. Wann wurde das alte Schulhaus und Rathaus erbaut? _____

25. Welches Tier sitzt auf der Kirchturmspitze der evangelischen Kirche? _____

Begeben Sie sich nun zum Pavillon der



26. Wie weit sind die Entfernungen von der Enzkreisspitze zum ...

... Katzenbuckel _____

... Sultzerkopf _____

... Turmberg _____

... Postturm _____

Arnbach

27. Wie viele solcher schwarzen Striche befinden sich insgesamt vor dem THW? _____



28. Wie viele rote Felder hat die „Schlange“ auf dem Schulhof der Grundschule in Arnbach?



Suchen Sie die Tür an der Grundschule mit folgendem Knauf!



29. Wie viele einzelne Fenster hat diese Tür?

30. Wie breit ist die Einfahrt zur Lutherkirche?



Wilhelmshöhe/ Buchberg

Begeben Sie sich zur Schwedenschanze auf der Wilhelmshöhe.



31. Wie hoch war der Turm? _____

32. Zu welcher Verteidigungslinie gehörte die Schwedenschanze?

Begeben Sie sich nun an die Stadthalle.

33. Wie viele Fahnenmasten stehen links neben dem Eingang? _____

Begeben Sie sich nun zum Sainte- Maxime Kreisel auf dem Buchberg.



34. Wie viele Kilometer Entfernung liegen zwischen dem Kreisverkehr und unserer Partnerstadt Sainte- Maxime? _____

35. Wie viele der folgenden Löcher hat das Gemeindehaus Buchberg in dem roten Dach?



Begeben Sie sich nun zum Pausenhof des Gymnasiums.

36. Welches Thema hatten die Abiturienten 2022? _____

37. Welches Fahrzeug malten die Abiturienten 1990? _____

38. Wie viele Abiturienten fingen 2024 mit dem Anfangsbuchstaben „A“ an? _____